

DEVOIR DE LA SEMAINE

SEM AINE 7



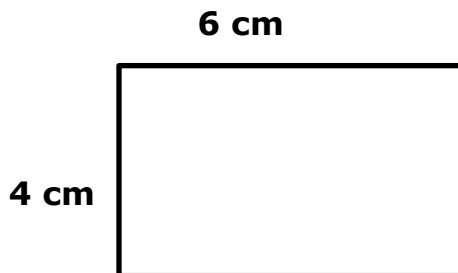
MATHÉMATIQUES

Remplis le diagramme de Carroll en écrivant les nombres suivants dans les bonnes colonnes.

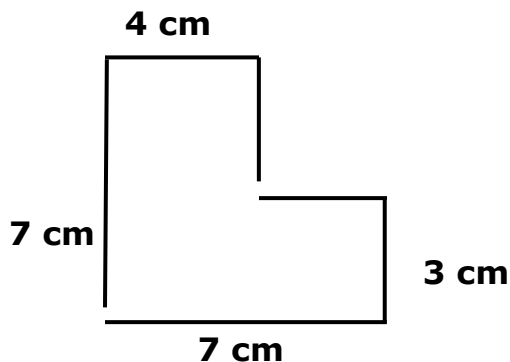
1, 3, 4, 5, 6, 7, 8, 10, 12, 20, 30, 40

	Nombre premier	Nombre composé
Facteurs de 40		
Pas un facteur de 40		

Calcule le périmètre de ces polygones. N'oublie pas tes unités!



Périmètre : _____



Périmètre : _____

FRANÇAIS

Conjugué le verbe «aller».


1. Écris une phrase avec le verbe «aller» au présent, en utilisant le pronom «vous».

2. Écris une phrase avec le verbe «aller» au passé composé, en utilisant le pronom «ils».

3. Écris une phrase avec le verbe «aller» à l'imparfait, en utilisant le pronom «nous».

4. Écris une phrase avec le verbe «aller» au futur simple, en utilisant le pronom «je».

LECTURE DU SOIR



Cette semaine, j'ai lu environ _____ minutes à la maison

Signature d'un parent : _____